
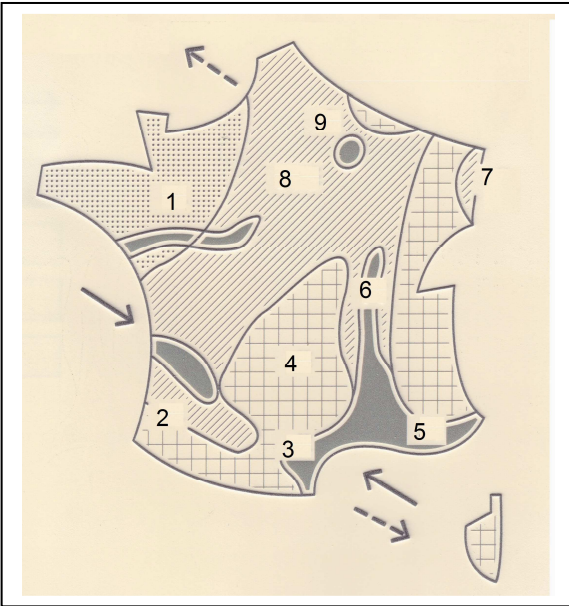


**Croquis. Les espaces agricoles français.**

Utiliser les consignes de l'étape 3 p 237 pour colorier et compléter le croquis et sa légende.




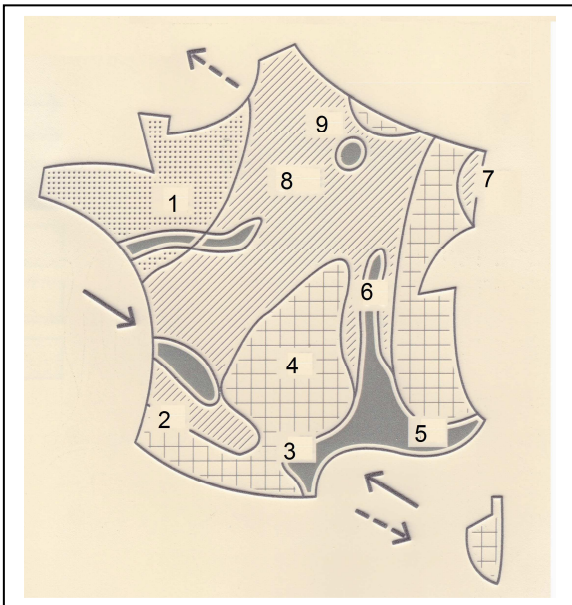
Noms des régions :

- 1 : \_\_\_\_\_
- 3 : \_\_\_\_\_
- 5 : \_\_\_\_\_
- 7 : \_\_\_\_\_
- 9 : \_\_\_\_\_

- 2 : \_\_\_\_\_
- 4 : \_\_\_\_\_
- 6 : \_\_\_\_\_
- 8 : \_\_\_\_\_

**Croquis. Les espaces agricoles français.**

Utiliser les consignes de l'étape 3 p 237 pour colorier et compléter le croquis et sa légende.



Noms des régions :

- 1 : \_\_\_\_\_
- 3 : \_\_\_\_\_
- 5 : \_\_\_\_\_
- 7 : \_\_\_\_\_
- 9 : \_\_\_\_\_

- 2 : \_\_\_\_\_
- 4 : \_\_\_\_\_
- 6 : \_\_\_\_\_
- 8 : \_\_\_\_\_